

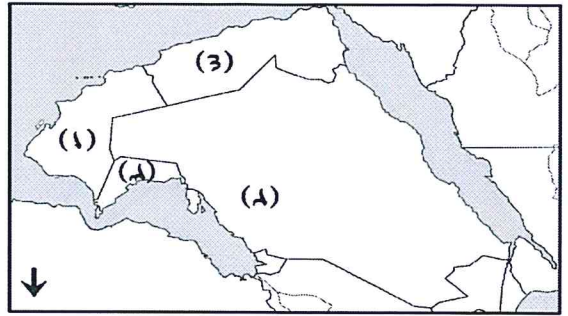


امتحان مادة: الدراسات الاجتماعية
للفيف: الخامس
للعام الدراسي ١٤٣٩/١٤٤٠هـ - ٢٠١٨/٢٠١٩م
الدور الثاني - الفصل الدراسي الأول

- زمن الامتحان: (ساعة ونصف) • عدد صفحات أسئلة الامتحان: (٥) صفحات.
- الإجابة في الدفتر نفسه.

اسم الطالب	
الصف	المدرسة

التوقيع بالاسم		الدرجة		السؤال
المصحح الثاني	المصحح الأول	بالحروف	بالأرقام	
				١
				٢
				٣
				٤
				٥
مراجعة الجمع	جمعه			المجموع
				المجموع الكلي



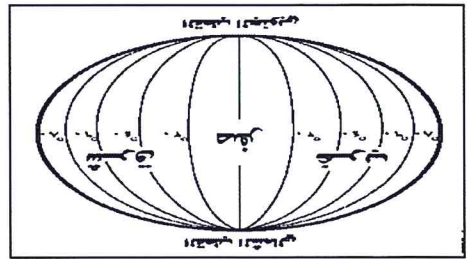
- (١) د
- (٢) ب
- (٣) ج
- (٤) ا

٥٥. تخطيط الخرج على الخريطة التالية الذي لا يتوافق مع التوزيع الطبيعي للزراعة:

- أ. حوض البحر المتوسط
- ب. العراق
- ج. مصر
- د. اليمن

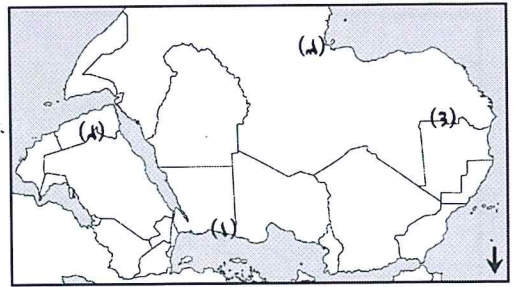
٥٦. الخط الذي يمر من الشمال إلى الجنوب في خريطة العالم:

- أ. الاستواء
- ب. خط عرض ٤٥°
- ج. مدار السرطان
- د. مدار الجوز



٥٧. خريطة العالم التي لا تظهر الأقاليم التي لا تتغير بنصف الكرة الشمالي هي:

- (١) ا
- (٢) ب
- (٣) د
- (٤) ج



٥٨. ظاهرة أمارة الخراب في المناطق الوسطى من البحر المتوسط هي:

- أ. ٢٠٥
- ب. ٣١
- ج. ١١٠٠٠
- د. ٢١٨

٥٩. المقومات الاقتصادية من مميزات الصحراء:


- أ. السياحة
- ب. الزراعة
- ج. تربية المواشي
- د. التعدين

(٢)

المادة: الدراسات الاجتماعية الصف: الخامس الدور الثاني
الفصل الدراسي الأول - العام الدراسي ٢٠١٨/٢٠١٩ م

٦. يطلق على متوسط حالة الجو لفترة زمنية طويلة قد تكون شهرا أو فصلا أو سنة أو أكثر بـ:
أ. الطقس ب. الامطار ج. المناخ د. درجة الحرارة

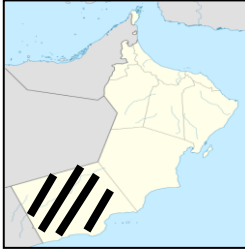
٧. النشاط الاقتصادي الذي كان يمارسه سكان مدينة مرباط قديما هو:
أ. تجارة الفخار ب. تجارة التمور ج. تجارة الخيول د. تجارة التوابل



٨. توضح الصورة المقابلة احدى نباتات البحر المتوسط:

أ. الغاف ب. السدر ج. السنديان د. السمر

٩. الاسم الذي أطلق قديما على المنطقة المظللة في الخريطة الظاهرة أمامك هو:



أ. دبا ب. شحر عمان

ج. آدم د. توام

١٠. تشير الصورة التي أمامك إلى إحدى صور العمل الاجتماعي في المجتمع وهي:



أ. التعاون ب. مساعدة كبار السن

ج. رعاية الأيتام د. التطوع

١١. من خلال المسطرة الزمنية الخليفة الذي حكم الدول الإسلامية من ١٣-٢٣ هـ هو :

عصر الخلافة الراشدة				عصر النبوة
(٣٥-٤٠ هـ)	(٢٣-٣٥ هـ)	(١٣-٢٣ هـ)	(١١-١٣ هـ)	(١-١١ هـ)
علي بن أبي طالب كرم الله وجهه	عثمان بن عفان رضي الله عنه	عمر بن الخطاب رضي الله عنه	أبو بكر الصديق رضي الله عنه	هجرة الرسول صلى الله عليه وسلم

أ. أبو بكر الصديق ب. عمر بن الخطاب ج. عمرو بن العاص د. علي بن أبي طالب

١٢. أعلى قمة جبلية في سلطنة عمان هي:

أ. جبل شمس ب. جبل طبقال ج. جبل تاهرت د. جبل مرة

(٣)

المادة: الدراسات الاجتماعية الصف: الخامس الدور الثاني
الفصل الدراسي الأول - العام الدراسي ٢٠١٨/٢٠١٩ م

السؤال الثاني: أجب عن الأسئلة التالية: (٨ درجات)

أولاً: ١. علل: اعتنق بعض سكان شبة الجزيرة العربية قبل ظهور الإسلام للديانتين اليهودية والنصرانية؟

٢. صنف في الجدول الذي أمامك المدن العمانية الآتية إلى مدن تجارية برية وبحرية:

(مرباط، دبا، صحار، البريمي)

مدن تجارية برية	مدن تجارية بحرية

٣. أعط أمثلة على شخصيات عمانية تاريخية من مدينة دبا.

ثانياً:

١. عرف مفهوم العمل الاجتماعي:

٢. (يُعد الجداد من العادات العمانية القديمة) في ضوء ذلك أجب على الآتي:

- ما المقصود بالجداد.....

ما دور كل من في الجداد:

- الرجال..... - النساء والأطفال.....

السؤال الثالث: (٨ درجات)

أولاً: أنظر إلى الصورة المقابلة أمامك ثم أجب عما يلي:

١. من الفئة المقصودة بهذه الإشارة؟

٢. أين يتم وضع هذه

الإشارة.....

٣. من وجهة نظرك: كيف يمكنك مساعدة هذه الفئة من الأشخاص؟



(٤)

المادة: الدراسات الاجتماعية الصف: الخامس الدور الثاني
الفصل الدراسي الأول - العام الدراسي ٢٠١٨/٢٠١٩ م

تابع السؤال الثالث:

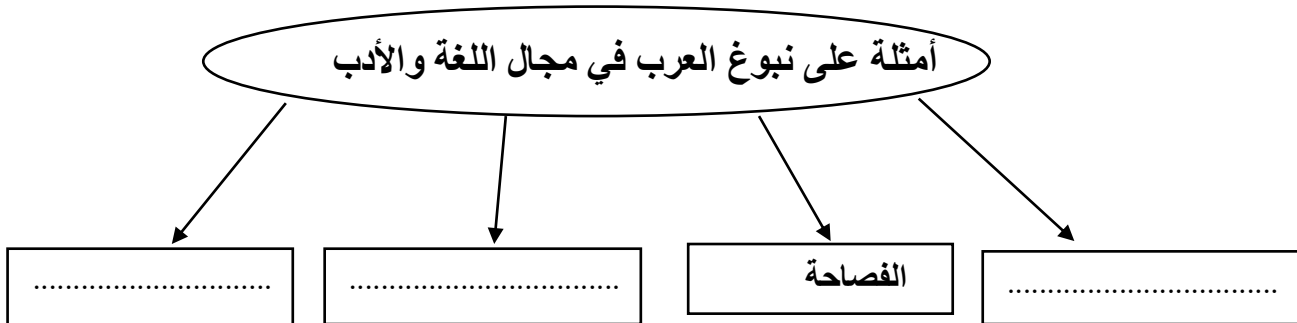
ثانياً: أمامك خريطة الوطن العربي سياسية بعد الاطلاع عليها أجب عما يلي:



١. الرقم الذي يشير إلى مضيق هرمز؟
٢. اكتب على الخريطة موقع هضبة حزموت؟
٣. استخرج دولة من الدول العربية التي يمر عليها مدار السرطان؟
٤. ضلل على الخريطة موقع الصحراء الكبرى

السؤال الرابع: (٦ درجات)

أولاً: أكمل الشكل التالي:



(٥)

المادة: الدراسات الاجتماعية الصف: الخامس الدور الثاني
الفصل الدراسي الأول - العام الدراسي ٢٠١٨/٢٠١٩ م

ثانيا: ١. عدد أهم الأنشطة التي مارسها السكان في شبه الجزيرة العربية قديما.

.....*

.....*

٢. اذكر أهم الصفات الحسنة التي انتشرت بين العرب قديما.

.....

السؤال الخامس: أجب عما يلي من أسئلة (٦ درجات)
أولا: ١. أعطي امثلة على دور الأسرة في تعزيز العمل الاجتماعي؟

.....

.....

.....

٢. صنف مظاهر العمل الاجتماعي التالية إلى أعمال على مستوى المجتمع وأعمال دولية:

(المساعدة في تنظيف القرية – مساعدة حكومة السلطنة للهند عند حدوث فيضانات)

أعمال دولية	أعمال مجتمعية
.....

ثانيا: ١. رتب مستويات التعاون ترتيبا صحيحا من الأقرب إلى الأبعد:

(...) التعاون بين الجيران.

(....) التعاون بين الأمة الإسلامية.

(١) التعاون بين أفراد الأسرة والأقارب.

(....) التعاون بين المواطنين في الدولة.

(....) التعاون بين دول وشعوب العالم.

٢. وضح الأهمية المتمثلة في الصور الآتية:



.....

.....

انتهت الأسئلة مع الدعاء للجميع بالتوفيق والنجاح.



نموذج إجابة امتحان الصف الخامس
للعام الدراسي ١٤٤٠/١٤٣٩ هـ - ٢٠١٨/٢٠١٩ م
الدور الثاني - الفصل الدراسي الاول

المادة: الدراسات الاجتماعية
الدرجة الكلية: (٤٠) درجة.
تنبيه: نموذج الإجابة في (٥) صفحات.

أولاً: إجابة السؤال الموضوعي:

المستوى المعرفي	الصفحة	الدرجة	الإجابة	البديل الصحيح	المفردة
تذكر	١١	١	٢٢	أ	١
فهم وتطبيق	٣٥	١	١	أ	٢
فهم وتطبيق	١٣	١	غرينتش	ب	٣
تذكر	٤٥	١	مصر	ج	٤
فهم وتطبيق	١٥	١	٤	د	٥
تذكر	٣١	١	المناخ	ج	٦
تذكر	٦٨	١	تجارة الخيول	ج	٧
فهم وتطبيق	٥٢	١	السنديان	ج	٨
فهم وتطبيق	٦٨	١	شجر عمان	ب	٩
فهم وتطبيق	٨١	١	مساعدة كبار السن	ب	١٠
فهم وتطبيق	٧١	١	عمر بن الخطاب	ب	١١
تذكر	٢٨	١	جبل شمس	أ	١٢
	١٢		المجموع		

(٢)

تابع نموذج إجابة امتحان الصف الخامس
للعام الدراسي ١٤٣٩/١٤٤٠ هـ - ٢٠١٨/٢٠١٩ م
الدور الثاني - الفصل الدراسي الأول
المادة: الدراسات الاجتماعية

ثانيا: إجابة الأسئلة المقالية:

إجابة السؤال الثاني		الدرجة الكلية (٨)	
الجزئية	المفردة	الإجابة الصحيحة	الدرجة
أولا	١	نتيجة تواصلهم الحضاري مع مناطق انتشارها في مصر وبلاد الشام	١
	٢	مدن تجارية برية	٢
		مدن تجارية بحرية	
	٣	البريمي	١
مرباط - دبا - صحار			
ثانيا	١	المهلب بن أبي صفرة - كعب بن سور (يكتفى بذكر شخصية واحدة)	١
	٢	العمل الاجتماعي: تقديم الخدمات للآخرين بصورة فردية أو من خلال جماعة منظمة (حكومية- أهلية)	١
		تذكر	
		-المقصود بالجداد: حصاد التمور - دور الرجال: حصاد التمور من أعلى النخلة. - دور النساء والأطفال: بجمع الحصاد في مكان واحد استعداد لفرزه....	١

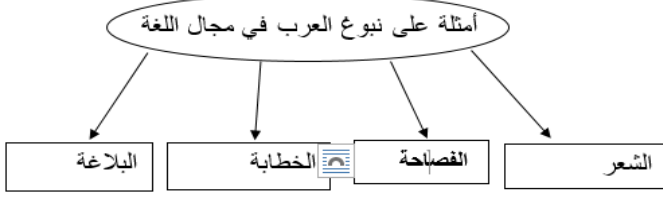
يتبع / ٣

(٣)
تابع نموذج إجابة امتحان الصف الخامس
للعام الدراسي ١٤٣٩/١٤٤٠ هـ - ٢٠١٨/٢٠١٩ م
الدور الثاني - الفصل الدراسي الأول
المادة: الدراسات الاجتماعية

الدرجة الكلية (٨)			إجابة السؤال الثالث		
المستوى المعرفي	الصفحة	الدرجة	الإجابة الصحيحة	المفردة	الجزئية
قدرات عليا	٩٨	١	فئة ذوي الإحتياجات الخاصة	١	أولا
		١	في الأماكن العامة (مواقف السيارات - الحقائق -.....) ما يفيد المعنى	٢	
		٢	تقديم المساعدة والعون بأي صورة وفي أي مكان وبدون تجريح ... ما يفيد المعنى	٣	
	١٧	١	(٢)	١	ثانيا
	٢٧	١	يحدد الطالب موقع الهضبة في اليمن	٢	
	١٥	١	السعودية - مصر - سلطنة عمان - الجزائر - ليبيا وغيرها من الدول	٣	
	٢٥	١	يظل الطالب موقع الصحراء الكبرى (شمال قارة أفريقيا)	٤	

(٤)

تابع نموذج إجابة امتحان الصف الخامس
للعام الدراسي ١٤٣٩/١٤٤٠ هـ - ٢٠١٨/٢٠١٩ م
الدور الثاني - الفصل الدراسي الاول
المادة : الدراسات الاجتماعية

إجابة السؤال الرابع		الدرجة الكلية (٦)			
الجزئية	المفردة	الإجابة الصحيحة	الدرجة	الصفحة	المستوى المعرفي
أولا	-		٣	٦٤	فهم تطبيق
ثانيا	١	الرعي-الزراعة-التجارة البرية والبحرية...	٢ لأي مفردة درجة	٦٠-٥٩	تذكر
	٢	الصفات الحسنة: الشجاعة - الكرم-التعاون- نصرة المظلوم....(أي إجابة تكون صحيحة)	١	٦٢	تذكر

الدرجة الكلية: (٦) درجة			إجابة السؤال الخامس			
المستوى المعرفي	الصفحة	الدرجة	الإجابة الصحيحة		المفردة	الجزئية
معرفة	٨٣	١	رعاية الأطفال وإعدادهم للحياة وغرس العادات الحسنة والأخلاق الحميدة في نفوسهم الأمانة والصدق وحب الخير والإحسان إلى الناس (يكتفى بذكر مثال)		١	أولا
			٩٣-٨٥	٢	أعمال دولية	
		مساعدة حكومة السلطنة للهند عند حدوث فيضانات			المساعدة في تنظيف القرية	
فهم وتطبيق	٩٤	٢ درجة لكل مفردة نصف درجة	(٢) التعاون بين الجيران. (٤) التعاون بين الأمة الإسلامية. (١) التعاون بين أفراد الأسرة والأقارب. (٣) التعاون بين المواطنين في الدولة. (٥) التعاون بين دول وشعوب العالم.		١	ثانيا
			١٠٢	١ لكل نصف درجة	نشر ثقافة العمل التطوعي وإبراز دور المؤسسات في هذا المجال.	
	٩٣		مد يد العون والمساعدة في داخل عمان وخارجها....			

انتهى نموذج الإجابة